

Fiche 3.3. Le  
pétrole



## Qui sont les producteurs de pétrole en 2018 ?

### CLASSEMENT DES ÉTATS DU MONDE PAR PRODUCTION DE PÉTROLE (EN MILLIONS DE TONNES)

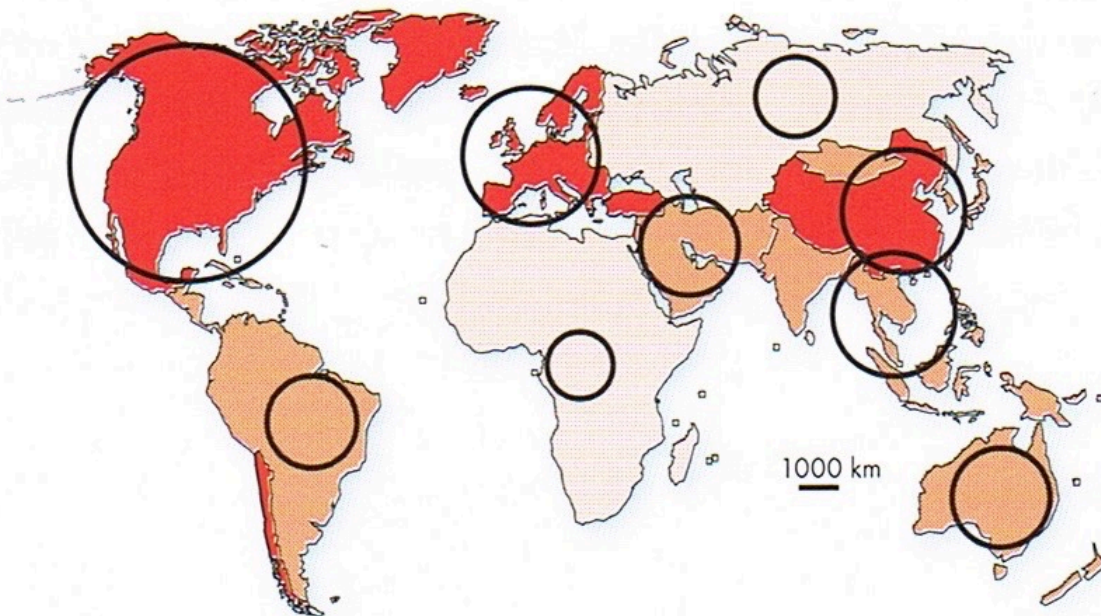
*Source : "Oil - Production", BP Statistical Review of World Energy.*

RANG	ÉTAT OU TERRITOIRE	PRODUCTION DE PÉTROLE (Mt)					
		1970	1980	1990	2000	2010	2018
1	États-Unis	533,5	480,2	416,6	347,6	332,8	669,4
2	Arabie saoudite	192,2	509,8	342,6	438,5	463,3	578,3
3	Russie	-	-	515,9	326,7	512,3	563,3
4	Canada	70,1	83,3	92,8	124,6	160,3	255,5
5	Iraq	76,3	131,1	105,3	128,8	120,8	226,1
6	Iran	192,6	74,2	162,8	191,7	212,0	220,4
7	Chine	30,7	106,0	138,3	162,6	203,0	189,1
8	Émirats arabes unis	37,8	83,8	93,2	121,5	135,2	177,7
9	Koweït	151,8	86,8	46,8	109,9	123,2	146,8
10	Brésil	8,8	9,9	34,1	67,1	111,3	140,3
11	Mexique	24,2	107,2	145,2	170,3	145,6	102,3
12	Nigeria	53,4	101,7	87,5	106,5	122,1	98,4
13	Kazakhstan	-	-	25,8	35,3	79,7	91,2
14	Norvège	-	25,0	82,1	159,9	98,4	83,1
15	Qatar	18,1	23,7	21,1	40,2	70,9	78,5
16	Venezuela	197,2	117,3	117,8	160,3	145,8	77,3
17	Angola	5,1	7,4	23,4	36,9	88,9	74,6
18	Algérie	48,3	51,5	58,4	66,8	73,8	65,3
19	Royaume-Uni	0,2	80,5	91,6	126,3	63,2	50,8
20	Oman	16,4	14,1	34,2	47,0	42,2	47,8

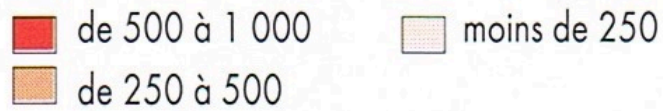


## Qui sont les consommateurs de pétrole en 2016 ?

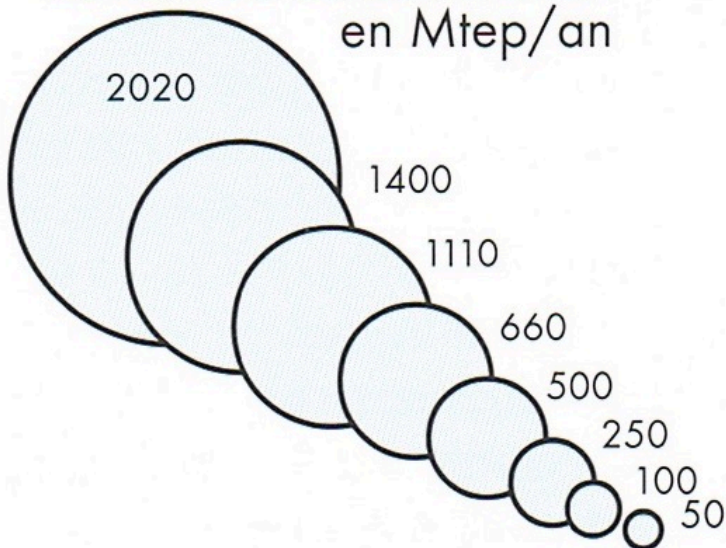
### Pétrole



### Consommation de pétrole en Mtep/an

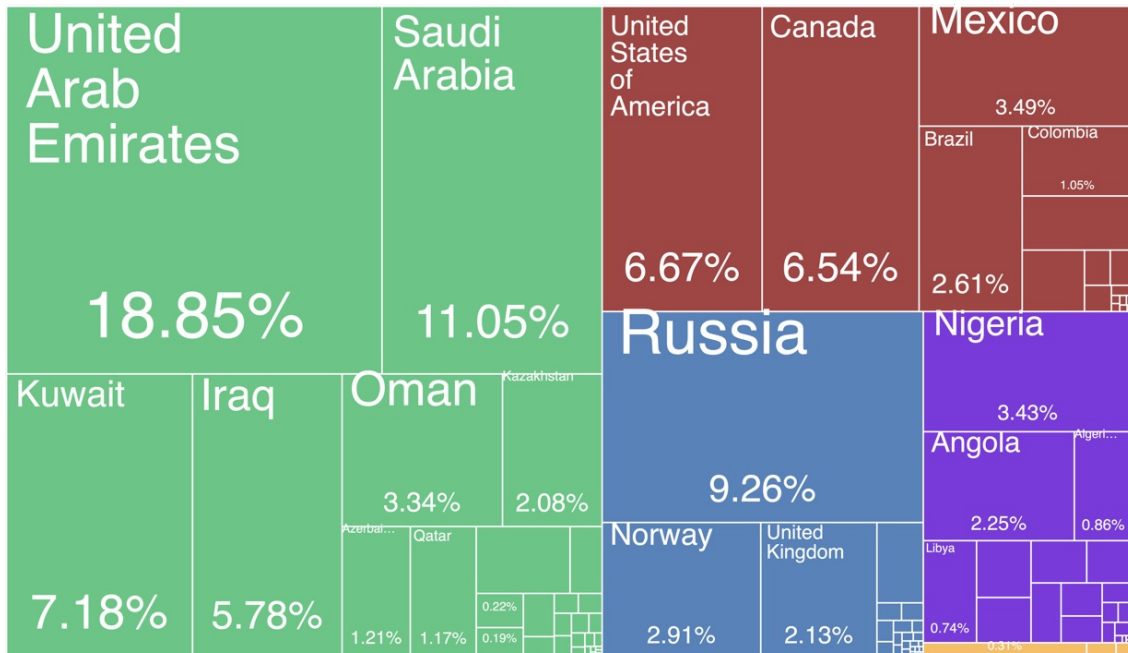


### Échelle de consommation en Mtep/an



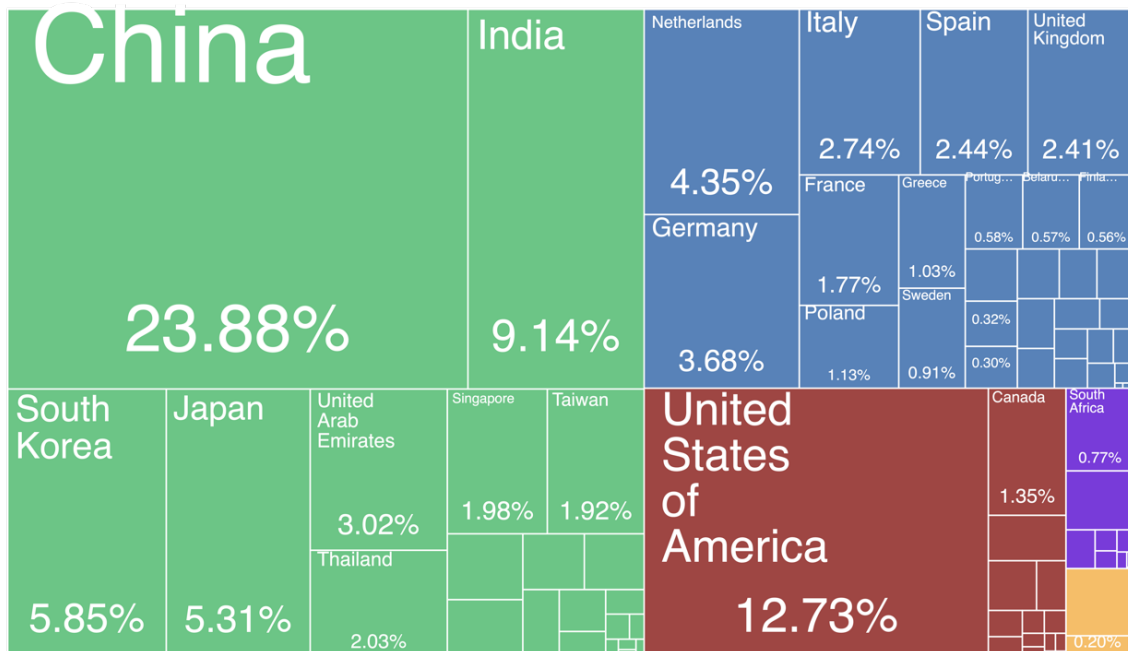
## Qui a exporté du pétrole en 2020 ?

\$731B



## Qui a importé du pétrole en 2020 ?

\$593B



# Notions

## Les flux de pétrole dans le monde

