

Fiche d'activité n°3 : la mutation des territoires méditerranéens

Compétences exercées :

C 1 « Traiter l'information » :

- Dessinez des croquis paysagers à partir de photographies paysagères
- Réaliser un schéma de la structure spatiale d'un territoire à partir de documents cartographiques

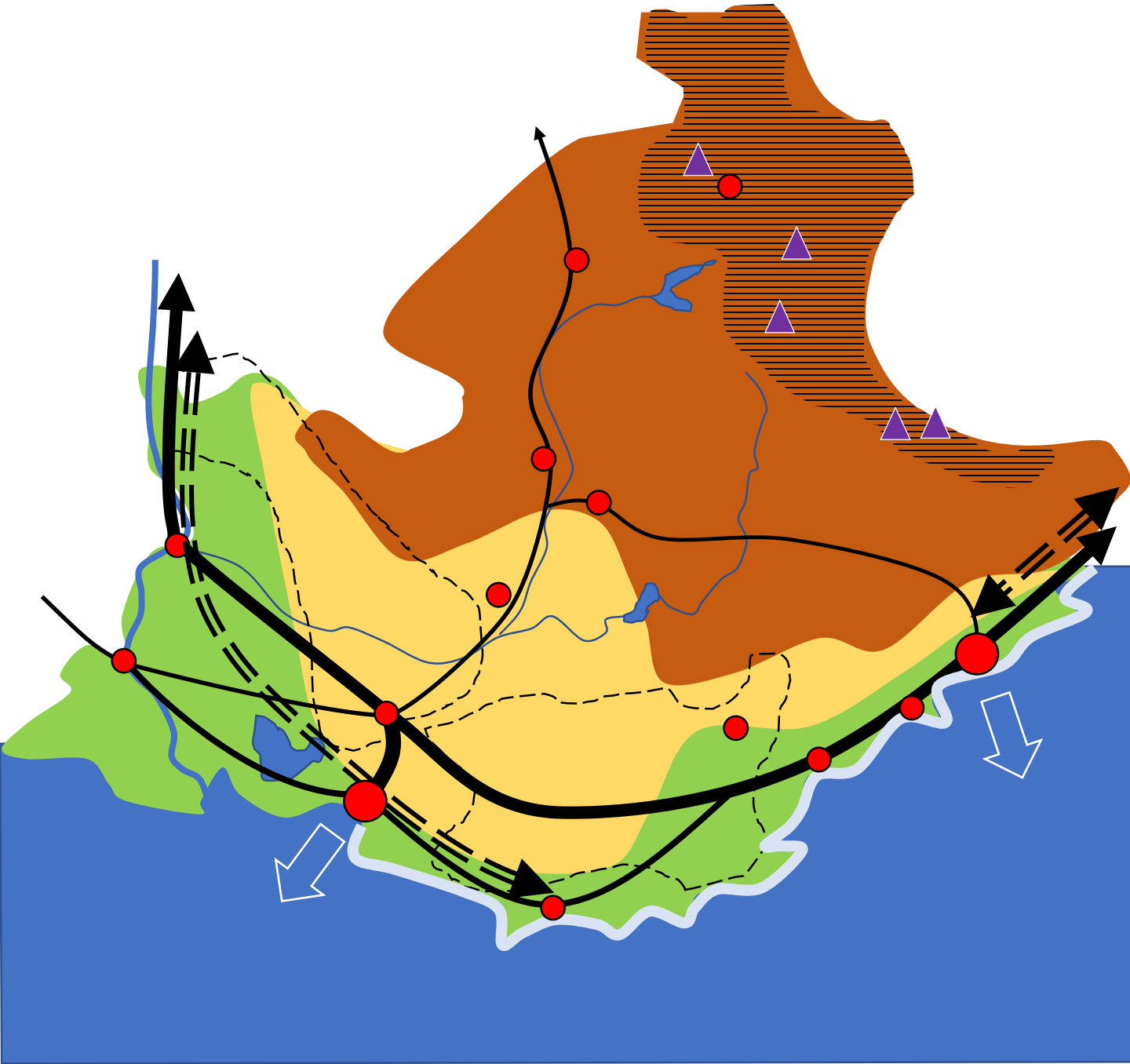
C 3 « Mobiliser les Savoirs » :

- L'organisation des territoires méditerranéens
- Réseaux, pôles, aires.















Matériel nécessaire :

- *Papier calque*
- *accès informatique à internet vers le site de l'IGN France*
<http://remonterletemps.ign.fr>

Tâche 1 : Complétez la légende de la carte schématique ci-dessous à l'aide des documents de cette fiche d'activité.



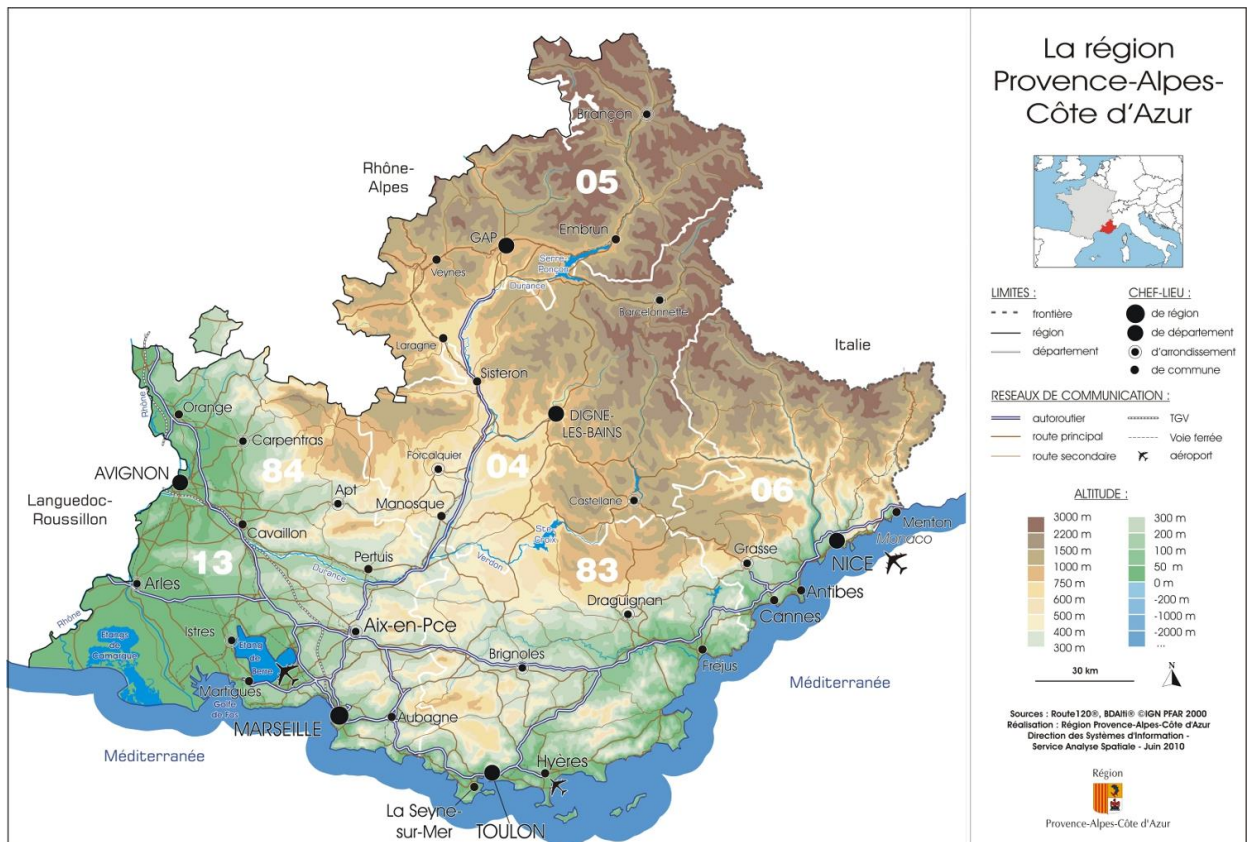
Légende :

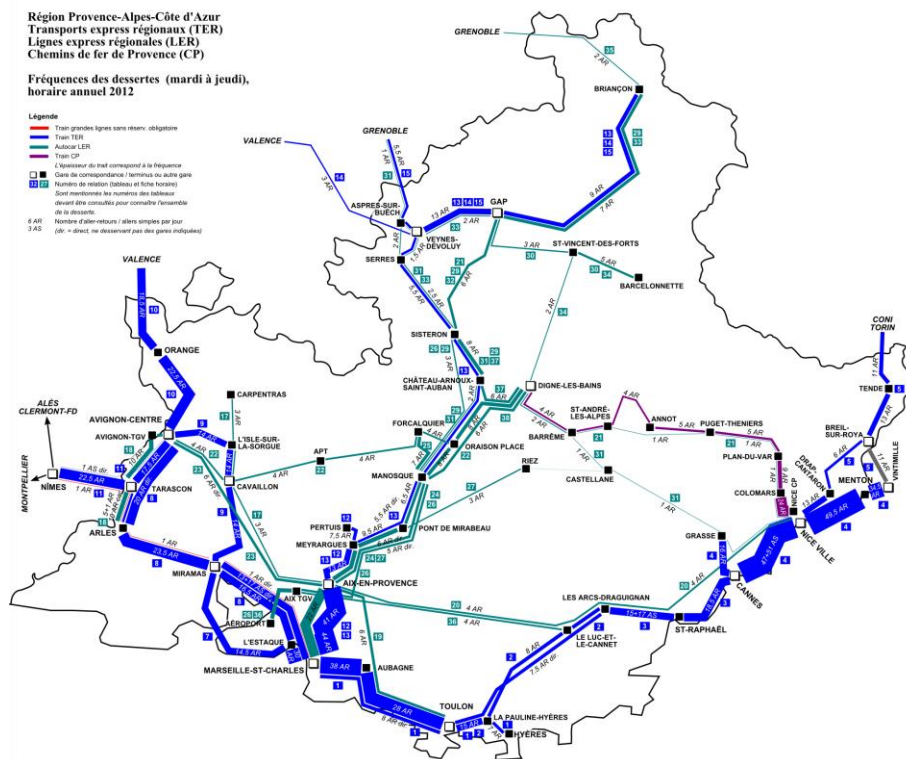
Document 1 : Bloc-diagramme de la Côte d'Azur et de l'arrière-pays.



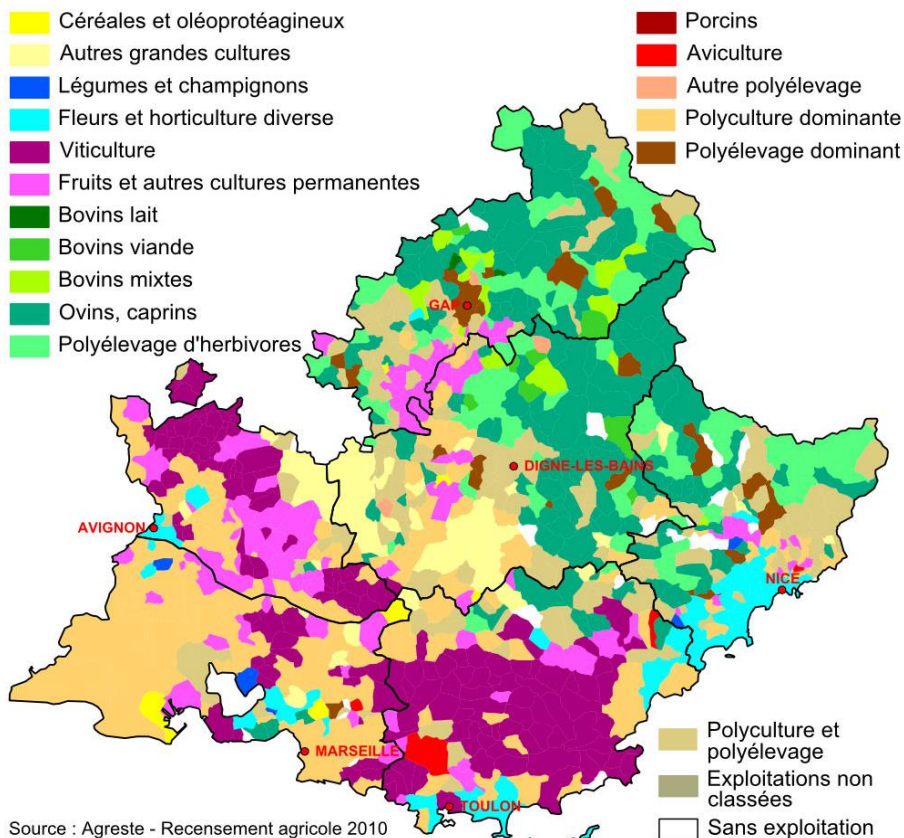
Document 2 : Carte du relief de la Région PACA.



Document 3 : Carte du réseau SNCF de la Région PACA.



Document 4 : Orientation économique de la région PACA (agriculture).

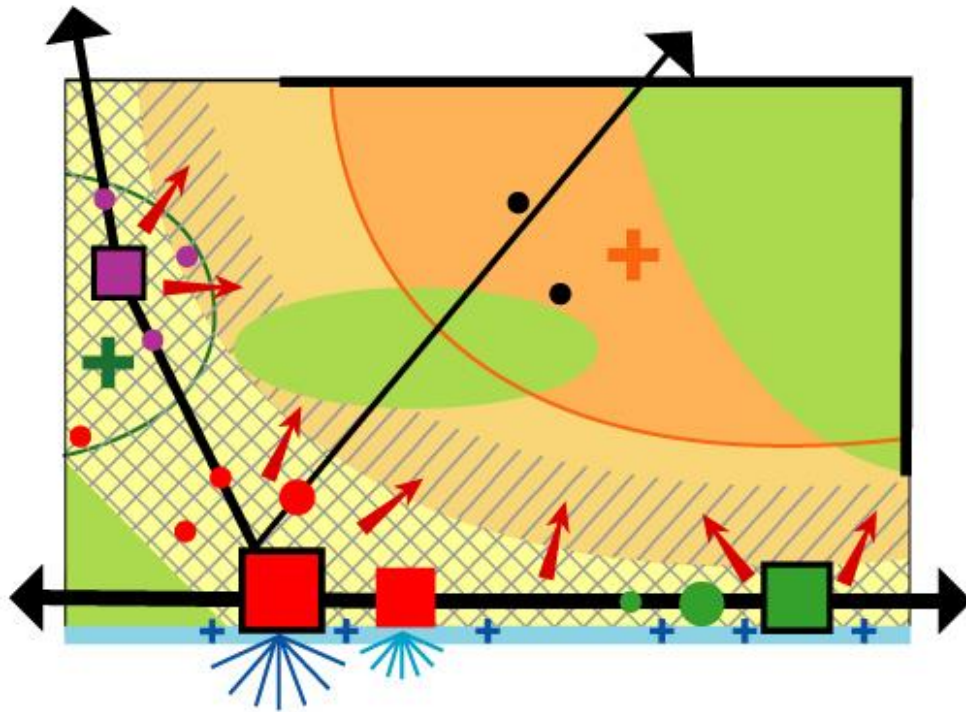


Document 5 : La Côte d'Azur de St-Tropez à Menton



Tâche 2 : A l'aide des documents de cette fiche et du chorème ci-dessous, décrivez l'organisation spatiale de la région PACA (Alpes – Provence – Côte d'Azur).

*La Région Provence-Alpes-Côte d'Azur :
une structuration auréolaire générée
par les contraintes physiques*



Un contact Alpes / Méditerranée

- Barrière montagneuse
- Zone montagneuse
- Arrière-pays
- Littoral
- Mer Méditerranée

Une économie sur-tertiairisée

- Pôle industriel et technopôle
- Ville universitaire, apport dans le domaine de la recherche
- ☼ Premier port de France
- ☼ Port militaire
- + Tourisme d'été sur le littoral
- ⊕ Tourisme de montagne en station
- ⊕ Tourisme culturel
- Tourisme vert (parcs naturels)

Un tropisme urbain Rhône / littoral

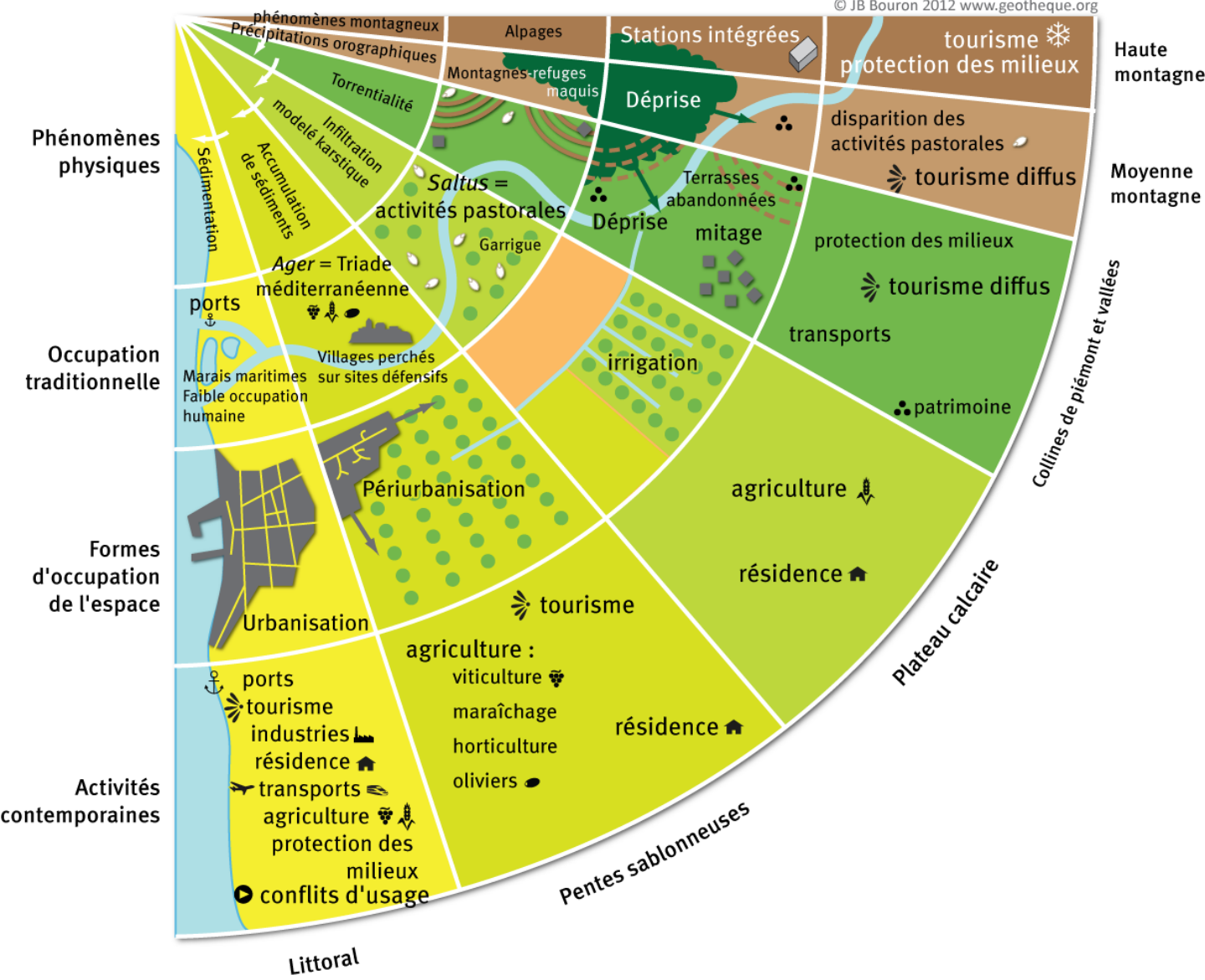
- ⊗ Zone d'évolution rapide avec une urbanisation dense (espace saturé)
- ⊘ Zone en transition en voie d'urbanisation (espace de croissance démographique)
- ➔ Déconcentration vers l'arrière-pays qui se densifie
- Polarisation de Marseille
- Polarisation de Nice
- Polarisation d'Avignon
- Ville isolée

Conception : Magalie BRUNET - Février 2015

Document 6 : L'organisation des espaces méditerranéens

L'ORGANISATION DES ESPACES MÉDITERRANÉENS

© JB Bouron 2012 www.geotheque.org



Tâche 3 : A l'aide d'un papier calque, montrez l'évolution du paysage de Sainte-Maxime


Document 7 : Vue de Saint-Maxime durant les années 60



Document 8 : Vue de Saint-Maxime durant les années 2000



Document 9 : Vue de Saint-Maxime durant les années 1950



Question : Quels sont les principales évolutions du paysage observées à Sainte-Maxime ?

Document 10 : Diverses vues anciennes de Saint-Maxime

